

بسمه تعالی

مروری بر آموخته‌های ریاضی

پیش دبستانی و دبستان غیردولتی ریحانه

مدت زمان: ۴۵ دقیقه

تاریخ: ۱۴۰۰/۱۰/۱۱

کلاس: دوم

نام و نام خانوادگی:

۱ الگوهای زیر را ادامه دهید.

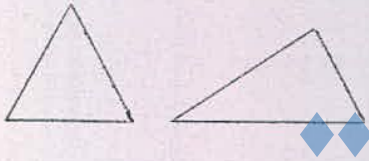
۴ - ۸ - ۱۲ - - -

۱ - ۲ - ۴ - ۷ - - -

۲۴۵ - ۲۴۶ - ۲۴۷ - - - -

۲ یک عدد دو رقمی بنویسید که رقم یکان آن ۵ و رقم دهگان آن ۴ تا بیشتر از رقم یکان باشد.



۳ دو شکل زیر چه تفاوت و شباهت‌هایی با هم دارند؟



شباهت:

تفاوت:

۴ قسمت‌های دیگر هر شکل را با توجه به خط‌های تقارن کامل کنید.



۵ جمع و تفریق زیر را با رسم شکل و فرایندی حل کنید.

$$\begin{array}{r} ۲۹ \\ + ۱۴ \\ \hline \end{array}$$

+


$$\begin{array}{r} ۴۳ \\ - ۲۷ \\ \hline \end{array}$$

-

۶ همه‌ی عددهای دورقمی را بنویسید که رقم یکان آن‌ها ۰ یا ۵ و رقم دهگان آن‌ها ۷ یا ۶ باشد.

۷ تکالیف ریاضی و علوم مهدیه ۵۵ دقیقه طول کشید. اگر تکالیف علوم او ۲۹ دقیقه زمان برده باشد، مهدیه در چند دقیقه تکالیف ریاضی نوشته است؟

۸ عددی را که هر شکل نشان می دهد در جدول قرار دهید و با رقم و باحروف بنویسید.



| یکان | دهگان | صدگان |
|------|-------|-------|
| | | |
| | | |



| یکان | دهگان | صدگان |
|------|-------|-------|
| | | |
| | | |

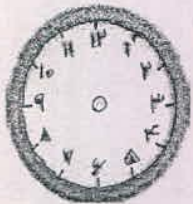
۹ یک سکه ۱۰ ریالی برابر است با سکه ۱ ریالی.

۱۰ زمانی را که ساعت نشان می دهد بنویسید.

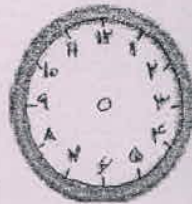


..... :
ساعت و است.

۱۱ زمان های زیر را روی هر ساعت نشان دهید.



نیم ساعت بعد از ۲



یک ربع مانده به ۷

۱۲ ساعت ۲ است. یک ساعت و ربع بعد ساعت چند است؟

غنچه های ریحانه، سربلند و پیروز باشید.